



PLAN DE MEJORAMIENTO LENGUA CASTELLANA PERÍODO 3

Lee con atención el siguiente texto.

ROSITA

Rosita es una amiga de mi mamá, ella vive en Cali con su familia. La semana pasada Rosita vino a mi casa de visita. Mamá la llevó a conocer la ciudad y a montar en el metro. Cuando Rosita volvió a casa estaba feliz, todo le pareció muy bonito. Antes de volverse para Cali, Rosita le regalo a mi mamá una cadenita de plata y a mí me regaló una camiseta azul.

Contesta las preguntas.

1. ¿Cómo se llamaba la amiga de mi mamá? _____
2. ¿Dónde vive Rosita? _____
3. ¿Qué le regalo a mi mamá?

4. ¿De qué color era la camiseta? _____

Señala la respuesta correcta.

Mi mamá llevó a Rosita a conocer		
A) Una prima	B) La ciudad	C) A mi abuela
Rosita pudo montar en		
A) Bus	B) Taxi	C) Metro
Rosita vino de visita		
A) La semana pasada	B) Hace un mes	C) Hace un año





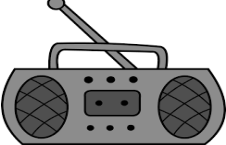



PLAN DE MEJORAMIENTO LENGUA CASTELLANA PERÍODO 3

1. Lee los enunciados y escribe el nombre del medio de comunicación al que se refiere.

A). Nos permite saber lo que pasa en el mundo y ver nuestros programas favoritos.	
B). Con el podemos llamar a las personas que queremos.	
C). El él podemos leer las noticias.	
D). Por medio de él puedo chatear con personas de mi familia.	





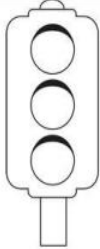

2. Une el nombre del medio de comunicación con su imagen.

 ☆		☆ Periódico
 ☆		☆ Computador
 ☆		☆ Carta
 ☆		☆ Radio
 ☆		☆ Teléfono fijo
 ☆		☆ Celular



PLAN DE MEJORAMIENTO LENGUA CASTELLANA PERÍODO 3

1. Identifica el nombre de cada señal y escríbela a su ilustración

2. Observa las imágenes y escribe SI o NO a los enunciados.

 <input type="radio"/>	 <input type="radio"/> ABRIGO	 <input type="radio"/>
La torta es un símbolo de tristeza.	El abrigo es un símbolo de que hace mucho calor.	El rayo es un símbolo de tormenta.
 <input type="radio"/>	 <input type="radio"/>	 <input type="radio"/>
Las campanas son símbolos navideños.	La v con los dedos significa victoria y paz.	El signo pesos es símbolo de pobreza.



INSTITUCIÓN EDUCATIVA MONSEÑOR GERARDO VALENCIA CANO

Proceso: GESTIÓN ACADÉMICA

Versión01

Nombre del Documento: Plan de mejoramiento

Página 5

Grado Primero

PLAN DE MEJORAMIENTO MATEMÁTICAS PERÍODO 3

NOMBRE: _____

FECHA de entrega 29 de septiembre

Dictado de números.

_____ _____ _____ _____ _____ _____ _____ _____ _____ _____
--

Escribe el número anterior y el siguiente.

<table style="width: 100%;"> <tr> <td style="width: 50%;"> _____ 45 _____ _____ 68 _____ _____ 72 _____ </td> <td style="width: 50%;"> _____ 84 _____ _____ 17 _____ _____ 26 _____ </td> </tr> </table>	_____ 45 _____ _____ 68 _____ _____ 72 _____	_____ 84 _____ _____ 17 _____ _____ 26 _____	<table style="width: 100%;"> <tr> <td style="width: 50%;"> _____ 23 _____ _____ 76 _____ _____ 58 _____ </td> <td style="width: 50%;"> _____ 45 _____ _____ 34 _____ _____ 63 _____ </td> </tr> </table>	_____ 23 _____ _____ 76 _____ _____ 58 _____	_____ 45 _____ _____ 34 _____ _____ 63 _____
_____ 45 _____ _____ 68 _____ _____ 72 _____	_____ 84 _____ _____ 17 _____ _____ 26 _____				
_____ 23 _____ _____ 76 _____ _____ 58 _____	_____ 45 _____ _____ 34 _____ _____ 63 _____				

Ubica el signo > < = según el caso.

<table style="width: 100%;"> <tr> <td style="width: 50%;"> 56 _____ 34 43 _____ 86 64 _____ 95 </td> <td style="width: 50%;"> 58 _____ 84 36 _____ 43 45 _____ 45 </td> </tr> </table>	56 _____ 34 43 _____ 86 64 _____ 95	58 _____ 84 36 _____ 43 45 _____ 45	<table style="width: 100%;"> <tr> <td style="width: 50%;"> 34 _____ 24 23 _____ 66 64 _____ 85 </td> <td style="width: 50%;"> 52 _____ 89 38 _____ 43 25 _____ 25 </td> </tr> </table>	34 _____ 24 23 _____ 66 64 _____ 85	52 _____ 89 38 _____ 43 25 _____ 25
56 _____ 34 43 _____ 86 64 _____ 95	58 _____ 84 36 _____ 43 45 _____ 45				
34 _____ 24 23 _____ 66 64 _____ 85	52 _____ 89 38 _____ 43 25 _____ 25				

Ubica cada cifra según sean unidades o decenas:

65 42 6 94 2 36 5 87 32 20

Decenas	Unidades		Decenas	Unidades



PLAN DE MEJORAMIENTO MATEMÁTICAS PERÍODO 3

NOMBRE: _____ **FECHA:** _____

Lee y soluciona los problemas.

A). Juanito compró 28 carritos y 25 pimpones. ¿Cuántos juguetes compró Juanito?

Operación

R/.

B). Sara tenía 64 laminitas y vendió 29. ¿Cuántas laminitas le quedan?

Operación

R/.

C). En un bosque había 82 árboles, en un incendio se quemaron 25. ¿Cuántos árboles quedaron en el bosque?

Operación

R/.

D). Juana compra 47 hojas y Rafael compra 38. ¿Cuántas hojas compran entre los dos?

Operación

R/.

E). Lucía tenía 53 dulces, le regaló 29 a Carlos. ¿Cuántos dulces le quedan?



PLAN DE MEJORAMIENTO MATEMÁTICAS PERÍODO 3

NOMBRE: _____ **FECHA:** _____

Sumas

$$\begin{array}{r} 36 + \\ \underline{18} \end{array}$$

$$\begin{array}{r} 57 + \\ \underline{26} \end{array}$$

$$\begin{array}{r} 23 + \\ \underline{49} \end{array}$$

$$\begin{array}{r} 28 + \\ \underline{37} \end{array}$$

$$\begin{array}{r} 69 + \\ \underline{27} \end{array}$$

$$\begin{array}{r} 54 + \\ \underline{28} \end{array}$$

$$\begin{array}{r} 35 + \\ \underline{19} \end{array}$$

$$\begin{array}{r} 68 + \\ \underline{25} \end{array}$$

$$\begin{array}{r} 28 + \\ \underline{48} \end{array}$$

$$\begin{array}{r} 15 + \\ \underline{27} \end{array}$$

Restas

$$\begin{array}{r} 84 - \\ \underline{27} \end{array}$$

$$\begin{array}{r} 65 - \\ \underline{39} \end{array}$$

$$\begin{array}{r} 53 - \\ \underline{26} \end{array}$$

$$\begin{array}{r} 62 - \\ \underline{48} \end{array}$$

$$\begin{array}{r} 94 - \\ \underline{39} \end{array}$$

$$\begin{array}{r} 46 - \\ \underline{18} \end{array}$$

$$\begin{array}{r} 53 - \\ \underline{26} \end{array}$$

$$\begin{array}{r} 85 - \\ \underline{47} \end{array}$$

$$\begin{array}{r} 92 - \\ \underline{54} \end{array}$$

$$\begin{array}{r} 73 - \\ \underline{24} \end{array}$$



INSTITUCIÓN EDUCATIVA MONSEÑOR GERARDO VALENCIA CANO

Proceso: GESTIÓN ACADEMICA

Versión01

Nombre del Documento: Plan de mejoramiento

Página 8